

## Aplico

1  Pinta la región en que vives.


2  Completa la información.

★ La localidad o comuna en que vivo se llama:

● La capital de la región en que vivo se llama:


  
  
  
  

3  ¡A jugar! Descubre la palabra secreta. ¿A qué corresponde?

TI SAN GO A

Capital del Maule.

Capital de Chile.

4  ¿Dónde se ubica tu localidad respecto de la capital de Chile?

Mapa mudo de Chile



Archivo cartográfico

## 5 Jueguen en equipo.

- ★ Escriban en papeles el nombre de todos los países de América del Sur. Luego, doblen los papeles.
- Cada integrante deberá sacar un papel y, sin mostrarlo, indicar la ubicación del país utilizando los puntos cardinales. Por ejemplo: está al norte de Brasil y al este de Venezuela.



### Lenguaje y comunicación

Al escribir los nombres de los países, usa mayúscula inicial porque son sustantivos propios.

Mapa de América del Sur



## ¿Cómo voy?

1  ¿Dónde se ubica Chile? Marca la respuesta correcta.

<input type="checkbox"/>	En tres continentes.
<input type="checkbox"/>	Solo en América del Sur.
<input type="checkbox"/>	Solo en el territorio antártico.

2  Une la pregunta con la respuesta correcta.

¿Qué países limitan con Chile?

¿En qué continentes tiene territorio Chile?

¿Cómo se divide Chile?


¿Cuáles son los puntos cardinales?

América, Antártica y Oceanía.

Norte, sur, este y oeste.

Perú, Bolivia y Argentina.

En regiones.

3  Escribe un concepto que hayas aprendido en esta lección.


### Reflexiono

¿Cuál fue la parte que más me gustó de esta lección?,  
¿por qué?